

Name \_\_\_\_\_

Roll no: \_\_\_\_\_

**Q1. Fill in the blank:-**

1. World Wide Web is the largest collection of information in the form of websites on the internet.
2. Internet is used to send and receive messages using the e-mail facility.
3. The Internet is a network that connects millions of computers across the world.
4. Web browser is a special software that is used to open a website.
5. The collection of web pages is called Website.
6. Sugar test machine has Embedded computer.
7. A robot is a machine controlled by a computer.
8. ICT mainly depends on computer.
9. ATM is used to withdraw money.
10. Robots can be of different shapes and sizes.

**Q2. True/False:-**

- |  |       |
|--|-------|
| 1. Internet is the biggest network of computers.                                 | True  |
| 2. Website is like a book that contains many pages.                              | True  |
| 3. Webpage is not stored in an electronic form on a computer.                    | False |
| 4. Internet is used to download songs and movies.                                | True  |
| 5. Internet is used to play offline games.                                       | False |
| 6. Websites are display on desktop.  | False |
| 7. Computers help us do things better and faster.                                | True  |
| 8. Some robots which look and work exactly like a human being.                   | True  |
| 9. We must take good care of all the ICT machines.                               | True  |
| 10. A robot is a machine that could not performs tasks generally done by humans. | False |

**Q3. One word:-**

1. Name any two major services provided by internet

Ans. E-mail, WWW

2. Name any two Web browsers of Internet.

Ans. Google Chrome, Mozilla Firefox

3. Name of the first page that appears in a browser.

Ans. Home page

4. Which is largest network that links millions of computers?

Ans. Internet

5. Which computer system provides services to other computer systems ?

Ans. Server

**Q4. Rearrange the following jumbled letters to make meaningful words.**

1. TEWORKN

N E T W O R K

2. OBMILE

M O B I L E

3. OFSWARET

S O F T W A R E

4. AOMUCNITIONM

C O M M U N I C A T I O N

5. EWBPGEA

W E B P A G E

**Q5. Matching:-**

1. Modem



5

2. Blood Pressure machine



4

3. Sugar test machine



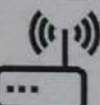
2

4. Alarm clock



3

5. Washing machine



1

**Q6. Full Form:-**

- |           |                                  |
|-----------|----------------------------------|
| 1. ARPA   | Advance Research Projects Agency |
| 2. E-mail | Electronic Mail                  |
| 3. WWW    | World Wide Web                   |
| 4. URL    | Uniform Resource Locator         |

*Ans*

5

**BCM Sen. Sec. School, Basant City, Pakhowal Road, Ludhiana**  
**Assignment**  
**Subject – English**  
**Std. – III**

I. Read the passage carefully and answer the following questions:-

The princess of the fairies was ill. The doctors could not find what the problem was. But luckily, two little dragons managed to find out what was wrong. The problem was that the princess was not seeing any smile. So, the two little dragons set off around the world, trying to find some smiles. But they could not find any. So, off they flew to the planets, to the stars, searching for a smile.

Q1:- Who was ill?

Ans: \_\_\_\_\_

Q2:- What was the problem with the princess?

Ans: \_\_\_\_\_

Q3:- Where do the dragons go searching for smiles?

Ans: \_\_\_\_\_

Q4:- Complete the following sentences:

1. The doctors could not find \_\_\_\_\_.

2. Two little dragons managed \_\_\_\_\_.

Q5:- Make sentence of the word:

Ill: \_\_\_\_\_

Q6:- Write the synonym of the word 'little'.

\_\_\_\_\_

II. Read the passage carefully and answer the following questions:-

There is a forest where all the animals play happily. One day, the sun notices them and wants to join in. The animals tell the sun that he can play with them. But when the sun leaves his place to the sky and comes down to the forest, none of the animals can stand the heat and they all run to hide.

Q1:- Who play in the forest?

Ans: \_\_\_\_\_

Q2:- Who notice them one day?

Ans: \_\_\_\_\_

Q3:- What happens when the sun comes to play with the animals?

Ans: \_\_\_\_\_

Q4:- Complete the following sentence:

The animals tell the Sun \_\_\_\_\_.

Q5:- Make sentence of the word:

Forest: \_\_\_\_\_

Q6:- Write the antonym of the word 'day'.

\_\_\_\_\_

### Simple Future Tense

Rule: Subject + will/shall + verb 1<sup>st</sup> form + Object

Example: I will go to the market

III. Fill in the blanks with 'Simple Future Tense'.

1. I \_\_\_\_\_ (find) a cat in the park.

2. She \_\_\_\_\_ (call) the police for help.

3. We \_\_\_\_\_ (sleep) soundly.

4. He \_\_\_\_\_ (teach) us a new lesson.

5. We \_\_\_\_\_ (see) a movie today.

6. You \_\_\_\_\_ (cook) a meal soon.

7. Rohan \_\_\_\_\_ (speak) to me tomorrow.

8. We \_\_\_\_\_ (drive) the car tomorrow.

*Reesh*

**Q.1. Give one word answer:**

a) Why do we wear clothes ?

\_\_\_\_\_

b) Give two examples of stitched clothes .

\_\_\_\_\_

c) Which movement was started by Gandhi ji ?

\_\_\_\_\_

d) What are Kulhads?

\_\_\_\_\_

e) Why do people store water in earthen pots?

\_\_\_\_\_

**Q.2 Fill in the blanks:**

a) Pots are dried in the \_\_\_\_\_.

b) Potter's wheel is a round platform made of \_\_\_\_\_ .

c) To make the pots, the dough is kneaded .

d) Three primary colours are :--- red ,yellow and \_\_\_\_\_.

e) \_\_\_\_\_ is used to change the colour of the cloth.

**Q.3. True / False:**

a) Phiran is a dress of Punjab.

b) A lungi is worn by men.

c) Glazing makes the pots waterproof .

d) Shantiniketan is popular for making ornaments with gold..

e) In earthen pots water becomes ice .

**Q.4. Match the following:**

- |                |                    |
|----------------|--------------------|
| a) Clay        | furnace for baking |
| b) Khadi cloth | Punjab             |
| c) Kiln        | Lucknow            |
| d) Phulkari    | sticky soil        |
| e) Chikan work | charkha            |

**Q.5. Circle the correct word:**

- |              |           |           |
|--------------|-----------|-----------|
| a) Chemecal  | Chemical  | Chemicul  |
| b) Primary   | Primery   | Prymary   |
| c) Synthatic | Sinthetic | Synthetic |
| d) Lustrous  | Lustreous | Lusterous |
| e) Cerameec  | Ceramic   | Ceramyc   |

**Q.6. Answer the following questions:**

- What is pottery?
- Describe in brief the process of making pots on potter's wheel.
- What are ceramic pots? How are they different from clay pots.
- How are fabrics woven?
- What are the two ways of printing and embroidery?

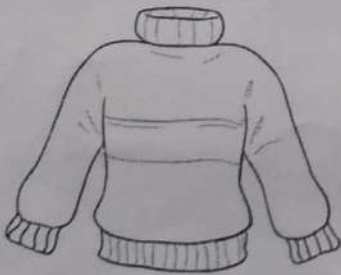
**Q.7. HOTS:**

Ria is going to a hill station during summer vacation. Her mother packed her sweater and cap in the suitcase. Why?

**Q.8. Value Based Question:**

It was a hot afternoon when postman brought letter to Shikha's house. Should she offer him water or not?


**Q.9. Identify the Pictures:**



a.



b.



c.

**Q.10. Draw any three articles made of clay.**

निम्नलिखित गद्यांश को पढ़कर प्रश्नों के उत्तर लिखिए -

पेड़ - पौधों से हमें भोजन प्राप्त होता है। अन्न, सब्जियाँ, फल, कागज, वस्त्र आदि पेड़ - पौधों से ही मिलते हैं। जीवित रहने के लिए भोजन और शुद्ध वायु पेड़ - पौधों से ही प्राप्त होती है। पेड़ - पौधों से हमें लकड़ी भी मिलती है। इसका उपयोग फर्नीचर तथा घर आदि बनाने में किया जाता है। वृक्षों की जड़ें भूमि के कटाव को रोकती हैं। जहाँ पेड़ अधिक होते हैं, वहाँ वर्षा भी अधिक होती है।

(क) भोजन किससे प्राप्त होता है?

लकड़ी से  पेड़-पौधों से  वर्षा से

(ख) लकड़ी से क्या बनाया जाता है?

जूते  कपड़े  फर्नीचर

(ग) वृक्षों की जड़ों का क्या उपयोग है?

भूमि के कटाव को रोकना  विद्यालयों में  शहरों में

(घ) वर्षा कहाँ अधिक होती है?

जहाँ पेड़ अधिक होते हैं  जहाँ पेड़ नहीं होते  जहाँ पेड़ कम होते हैं

(ङ) शुद्ध वायु क्यों आवश्यक है?

खाने के लिए  घरेलू उपयोग के लिए  जीवित रहने के लिए

शब्द - अर्थ -

1. अपमान      2. भौंचक्का

3. सबल      4. जीशशा

III. निम्नीलखित प्रश्नों के उत्तर दीजिए —

- (क) डामन की जगह कौन जेल में रहने को तैयार हुआ ?  
(ख) घायल व्यक्ति को अनदेखा करके कौन चला गया ?  
(ग) महाशतक के नाम से किसे जाना गया ?  
(घ) मार्ग में डाकूओं से कौन घिर गया ?  
(ङ) सायन का पूरा नाम क्या है ?

IV. उचित विकल्प चुनकर खाली स्थान भरिए —

(फ्यूमारोल, अधमवा, फॉसी, उपन्यासकार)

- (क) डाकू उसे \_\_\_\_\_ करके छोड़ गए।  
(ख) इसके निर्माण की दूसरी वजह \_\_\_\_\_ है।  
(ग) सायन के पिता जी एक प्रसिद्ध \_\_\_\_\_ थे।  
(घ) राजा ने डामन को \_\_\_\_\_ की सजा सुनाई।

V. सही उत्तर पर निशान लगाइए।

(क) डामन मिलने चला गया

पिंधपस से  अपने परिवार से  बहन से

(ख) घर के अंदर जा दुबके।

चुन्नु - मुन्नु  गुड्डू  दीनी

(ग) घायल व्यक्ति को अनदेखा करके चला गया।

घुड़सवार  वैद्य  याजक

(घ) काँच का एक महत्वपूर्ण घटक होता है।

सिलिका  थान  मंगल

VI. निबंध —

मेरा परिवार या होली

VII. पत्र —

मित्र की नववर्ष की बधाई देते हुए पत्र।

या

मित्र के जन्मदिन पर बधाई पत्र।






Assignment-2

Subject-Mathematics

Std-III

Ch-Measures of Time and capacity

Q 1. Write the time shown on each clock face.



Q 2. Read the calendar and answer the following questions.



January 2016


Sunday	Monday	Tuesday	Wednesday	Thursday	Friday	Saturday
					1 New Year	2
3	4	5	6	7	8	9
10	11	12	13	14	15	16
17	18 Martin Luther King's Day	19	20	21	22	23
24	25	26	27	28	29	30
31						

- 1) This New year is the beginning of which year? \_\_\_\_\_
- 2) What is the name of the month? \_\_\_\_\_
- 3) How many weekend days are in this month? \_\_\_\_\_
- 4) On which date does the last Saturday fall? \_\_\_\_\_

Q 3. How many minutes are there in the following?

- (a) Quarter hour = \_\_\_\_\_ minutes
- (b) Half an hour = \_\_\_\_\_ minutes
- (c) It takes \_\_\_\_\_ minutes for the minute hand to move from 3 to 9.
- (d) 2 hours = \_\_\_\_\_ minutes

- Q 4. Convert into days (a) 8 months (b) 26 weeks
- Q 5. Convert into hours (a) 13 days 20 hours (b) 88 days
- Q 6. Convert into minutes (a) 75 hours (b) 2 days 5 hours
- Q 7. Write the number of hours between 10 : 00 a. m. and 6 : 00 p.m.
- Q 8. Think and choose the most suitable unit of capacity (*l* and *ml*) below.



- Q 9. Change into millilitres. (a) 12 *l* (b) 5 *l* 545 *ml*
- Q 10. Change into litres. (a) 9000 *ml* (b) 6000 *ml*
- Q 11. Change into litres and millilitres. (a) 9876 *ml* (b) 2001 *ml*
- Q 12. Find the difference between. (a) 65 *l* 855 *ml* from 80 *l* 500 *ml*
- Q 13. Anu purchased 22 *l* 500 *ml* of coconut oil, 54 *l* 355 *ml* of groundnut oil and 33 *l* 890 *ml* of mustard oil. How much oil did he purchase?
- Q14. A vessel contains 567 *l* 780 *ml* of water. Three families take 123 *l* 122 *ml*, 255 *l* 550 *ml* and 92 *l* 340 *ml* of water from the vessel respectively. How much water is left in the vessel.
- Q 15. Multiply the following: (a) 341 by 55 (b) 405 by 98
- Q 16. There are 75 bangles in one packet. How many bangles will be there in 45 such packets?

1. ਜੇਹੇ ਲਿਖਿਆ ਅਖੌਤੀ ਪੈਰੁ ਪੜ੍ਹੇ ਪ੍ਰਸ਼ਨਾਂ ਦੇ ਉੱਤਰ ਦਿਓ :-  
 ਅਬਰਾਹਮ ਲਿੰਕਨ ਅਮਰੀਕਾ ਦੇ ਰਾਸ਼ਟਰਪਤੀ ਸਨ। ਉਨ੍ਹਾਂ ਦੀ ਅਗਵਾਈ ਵਿੱਚ  
 ਅਮਰੀਕਾ ਨੇ ਬਹੁਤ ਤਰੱਕੀ ਕੀਤੀ ਸੀ। ਅਬਰਾਹਮ ਲਿੰਕਨ ਨੇ ਇੱਕ ਬਹੁਤ ਹੀ  
 ਗਰੀਬ ਪਰਿਵਾਰ ਵਿੱਚ ਜਨਮ ਲਿਆ। ਲਿੰਕਨ ਦੇ ਪਿਤਾ ਜੀ ਇੱਕ ਕਿਸਾਨ ਸਨ।  
 ਜਮੀਨ ਖੋਜੀ ਜੇਹੇ ਰਾਹ ਉਨ੍ਹਾਂ ਦੇ ਘਰ ਦਾ ਗੁਜ਼ਾਰਾ ਚਲਾ ਐਥਾ ਚਲਦਾ ਸੀ। ਲਿੰਕਨ  
 ਘਰ ਵਿੱਚ ਵੱਡੇ ਪੁੱਤਰ ਜੇਹੇ ਰਾਹ ਆਪਣੇ ਪਿਤਾ ਨਾਲ ਮਦਦ ਕਰਦੇ ਸਨ। ਲਿੰਕਨ  
 ਆਪਣੇ ਛੋਟੇ ਭੈਣ-ਭਾਈ ਬਹੁਤ ਕੁਝ ਕਰਨ ਚਾਹੁੰਦੇ ਸਨ। ਅਬਰਾਹਮ  
 ਲਿੰਕਨ ਇੱਕ ਦਿਨ ਮੱਛੀਆਂ ਫੜਨ ਲਈ ਸਮੁੰਦਰ ਵੱਲ ਚਲ ਪਿਆ।

- ਪ੍ਰ.1- ਲਿੰਕਨ ਨੇ ਕਿਹੋ ਜਿਹੇ ਪਰਿਵਾਰ ਵਿੱਚ ਜਨਮ ਲਿਆ ?
- ਪ੍ਰ.2- ਲਿੰਕਨ ਕਿਨ੍ਹਾਂ ਲਈ ਬਹੁਤ ਕੁਝ ਕਰਨ ਚਾਹੁੰਦੇ ਸਨ ?
- ਪ੍ਰ.3- ਉਨ੍ਹਾਂ ਦੇ ਘਰ ਦਾ ਗੁਜ਼ਾਰਾ ਚਲਾ ਐਥਾ ਕਿਉਂ ਚਲਦਾ ਸੀ ?
- ਪ੍ਰ.4- ਲਿੰਕਨ ਦੇ ਪਿਤਾ ਜੀ ਕੀ ਸਨ ?
- ਪ੍ਰ.5- ਅਬਰਾਹਮ ਲਿੰਕਨ ਕਿਥੋਂ ਦੇ ਰਾਸ਼ਟਰਪਤੀ ਸਨ ?

2. ਜੇਹਾਂ ਵਿੱਚੋਂ ਪ੍ਰਸ਼ਨਾਂ ਦੇ ਉੱਤਰ ਦਿਓ :-

- ਪ੍ਰ.1- ਕਾਂ ਨੇ ਚਿੜੀ ਨੂੰ ਕੀ ਜਵਾਬ ਦਿੱਤਾ ?
- ਪ੍ਰ.2- ਕੋਈ ਦੋ ਪਹਿਲੀ ਸਥਾਨਾਂ ਦੇ ਨਾਂ ਲਿਖੋ ?
- ਪ੍ਰ.3- ਕਿਹੜੇ ਫੁੱਲ ਦੀ ਗੁਲਬੰਦ ਬਣਦੀ ਹੈ ?
- ਪ੍ਰ.4- ਕਿਹੜੇ-ਕਿਹੜੇ ਫੁੱਲ ਸੁਗੰਧੀਆਂ ਬਣਦੇ ਹਨ ?
- ਪ੍ਰ.5- ਬੱਚੇ ਕੀ ਕਰ ਸਕਦੇ ਹਨ ?

3. ਜੇਹਾਂ ਵਿੱਚੋਂ ਸੁਧਰਾਂ ਨੂੰ ਟਰਾਂ ਵਿੱਚੋਂ ਟਰਾਂ :-  
 ਗੁਣ, ਸੁਗੰਧ, ਪੜ੍ਹਾਈ, ਫੁੱਲ, ਕਾਗ਼

4. ਜੇਹੇ ਵਿੱਚੋਂ ਸੁਧਰਾਂ ਦੇ ਅਰਥ ਲਿਖੋ :-  
 ਨਜ਼ਾਰਾ, ਮੋੜੀ, ਬਗ਼ਾਰ, ਮਦਦ, ਮੈਲਾਨੀ

5 ਖਾਲੀ ਥਾਵਾਂ ਭਰੋ :-

ਸੰਕੇਤ :- [ਮਹਿਰ, ਖੁਮਾਰੀ, ਪਿਆਮ, ਗਰਮੀ]

1. ਮਈ-ਜੂਨ ਵਿੱਚੋਂ ਘਰੁਤ \_\_\_\_\_ ਪੈਂਦੀ ਹੈ।

2. \_\_\_\_\_ ਨਾਲ ਰਾਂ ਦੀ ਜਾਨ ਨਿਕਲ ਰਹੀ ਸੀ।

3. ਮਰੁੱਠੇ ਨੇ ਖਿੜੇ ਵੇ \_\_\_\_\_ ਖਿਲਾਸੀ ਹੈ।

4. ਹਮ-ਹਮ ਘਾਹ ਦੇਖ ਵੇ \_\_\_\_\_ ਚੜ੍ਹ ਰਹੀ ਹੈ।

6. M.C.Q (ਘਰੁ-ਵਿਕਲਪੀ ਖੂਸ਼ਨ)

1. ਹਰ ਘਾਹ ਨੂੰ ਦੇਖ ਵੇ ਵੀ ਚੜ੍ਹ ਰਾ ਹੈ ?

ਖੁਮਾਰ  ਗੱਸਾ  ਪਿਆਮ

2. ਵਾਂ ਜੋ ਚੀਜ ਨੂੰ ਕਿਸਦੀ ਨਜ਼ਰ ਨਾਲ ਵੇਖ ਰਾ ਸੀ ?

ਲੁੱਟਣ-ਖੋਹਣ  ਵਿਗਿਆਨ  ਖਣ-ਪੀਣ

3. ਸਿਮਲੇ ਗਤ ਰਾ ਮੌਸਮ ਕਿੱਤੇ ਜਿਹਾ ਹੈ ?

ਘਰੁਤ ਗਰਮ  ਘਰੁਤ ਠੰਢਾ  ਥੋੜ੍ਹਾ ਠੰਢਾ

7. ਹੇਠ ਲਿਖੇ ਸ਼ਬਦਾਂ ਦੇ ਲਿੰਗ ਬਦਲੋ :-

(1) ਸੱਪ (2) ਪੱਖ (3) ਮੰਡਾ (4) ਮਾਲੀ

8. ਹੇਠ ਲਿਖੇ ਸ਼ਬਦਾਂ ਦੇ ਵਰਣ ਬਦਲੋ :-

(1) ਮੱਲਾ (2) ਪਰੀ (3) ਬਾਂ (4) ਨਲਕਾ

9. ਹੇਠ ਲਿਖੇ ਸ਼ਬਦਾਂ ਦੇ ਵਿਰੋਧੀ ਸ਼ਬਦ ਲਿਖੋ :-

(1) ਦੂਰ (2) ਭਾਰ (3) ਮਰੀ (4) ਸੁਖੀ

10. ਲੇਖ - ਮੰਗ ਸਕੂਲ ਲਿਖੋ ,

11. ਅਮਨੀ ਦਾ ਟਾਕਮੈਂਟ ਲਿਖੋ ।

12. ਗਿਣਤੀ :- ਅੰਕ 5 ਨੂੰ ਸ਼ਬਦ ਵਿੱਚੋਂ ਲਿਖੋ -

ਅੰਕ 8 ਨੂੰ ਸ਼ਬਦ ਵਿੱਚੋਂ ਲਿਖੋ -

ਅੰਕ 10 ਨੂੰ ਸ਼ਬਦ ਵਿੱਚੋਂ ਲਿਖੋ -